

**Zadanie 1.**

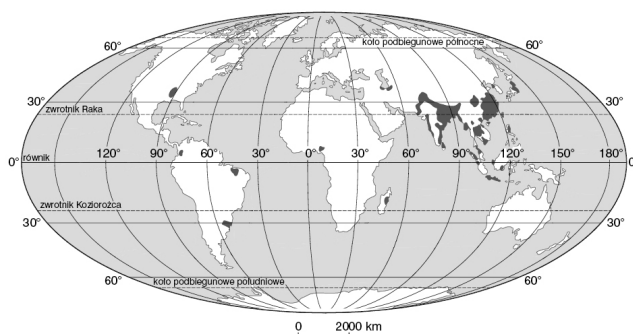
Pogrupuj podane niżej cechy rolnictwa, wpisując odpowiadające im litery we właściwe miejsca tabeli.

- A. Wysokie plony i duża wydajność chowu.
- B. Niskie plony i mała wydajność chowu.
- C. Wysoki stopień mechanizacji rolnictwa.
- D. Niski stopień mechanizacji rolnictwa lub jej brak.
- E. Ograniczone stosowanie nawozów sztucznych i środków ochrony roślin.
- F. Wprowadzanie gatunków roślin i zwierząt zmodyfikowanych genetycznie.

Rolnictwo intensywne	Rolnictwo ekstensywne

**Zadanie 2.**

Zapisz nazwę rośliny żywieniowej, której rozmieszczenie upraw przedstawiono na mapie. Następnie podaj najważniejsze wymagania klimatyczne tej rośliny.



Nazwa rośliny: .....

Wymagania klimatyczne: .....  
 .....

**Zadanie 3.**

**Podkreśl nazwy państw charakteryzujących się rolnictwem samozaopatrzeniowym.  
Następnie wyjaśnij, na czym polega ten rodzaj rolnictwa.**

*Stany Zjednoczone, Rwanda, Holandia, Wietnam, Indie*

Rolnictwo samozaopatrzeniowe: .....

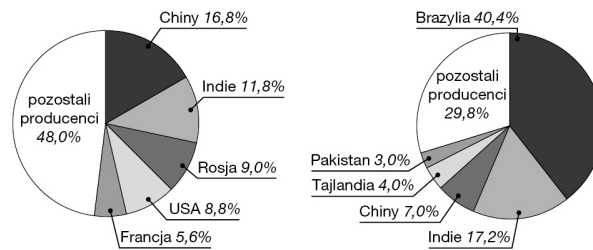
.....

.....

**Zadanie 4.**

**Poniższe wykresy przedstawiają głównych producentów dwóch roślin uprawnych.  
Wpisz pod wykresami nazwy tych roślin wybrane spośród podanych.**

*trzcina cukrowa, ryż, pszenica, kukurydza*



a) ..... b) .....

**Zadanie 5.**

**Wpisz obok zdania prawdziwego literę P, a obok fałszywego – literę F.**

- a) Lesistość Polski w 2009 r. wynosiła 29,1%. . . . .
- b) Największą lesistością w Polsce odznaczają się województwa: kujawsko-pomorskie, łódzkie, lubelskie. . . . .
- c) Lasy iglaste stanowią 54% drzewostanu w Polsce. . . . .
- d) Dominującym gatunkiem drzew w Polsce jest sosna. . . . .

**Zadanie 6.**

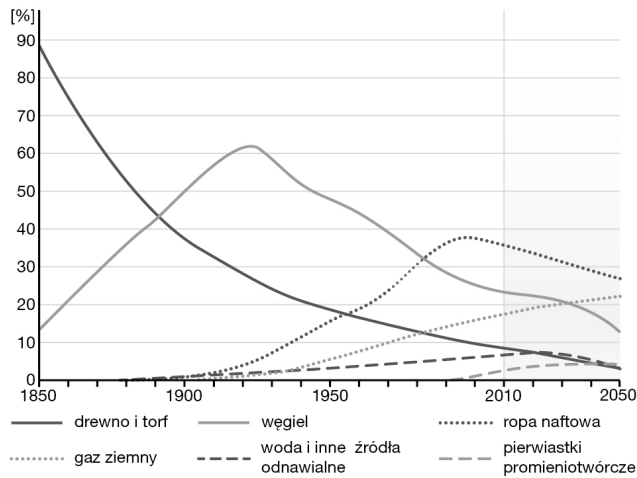
**Do podanych nazw zakładów przemysłowych dopisz główny czynnik lokalizacji tych zakładów wybrany spośród podanych poniżej (jeden zostanie bez pary)**

*wysoko kwalifikowana kadra pracowników, baza surowcowa, dostęp do wody,  
baza energetyczna, rynek zbytu*

- a) Mleczarnia – .....
- b) Zakład produkcyjny sprzętu telekomunikacyjnego – .....
- c) Zakłady nawozów fosforowych – .....
- d) Masarnia – .....

**Zadanie 7.**

Na podstawie wykresu wykonaj polecenia.



a) Podaj prognozę zmian udziału węgla w bilansie energetycznym świata w latach 2010–2050.....

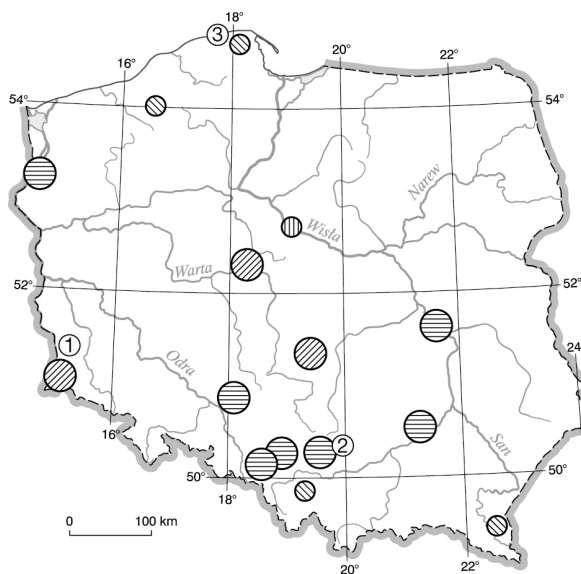
b) Podaj dwie przyczyny tych zmian.

1. ....

2. ....

**Zadanie 8.**

Na mapie zaznaczono niektóre polskie elektrownie. Uzupełnij tabelę, wpisując ich nazwy oraz typy wybrane spośród podanych.



Nazwy elektrowni:

*Nowe Czarnowo (Dolna Odra), Solina-Myczkowce, Żarnowiec, Bełchatów, Jaworzno, Bogatynia (Turów)*

Typy elektrowni:

*wodna szczytowo-pompowa, wodna przepływowa, ciepła opalana węglem kamiennym, jądrowa, ciepła opalana węglem brunatnym*

Oznaczenie na mapie	Nazwa elektrowni	Typ elektrowni
1		
2		
3		

### **Zadanie 9.**

**Podkreśl zdania dotyczące transportu samochodowego.**

- a) Ma duże znaczenie w przewozie towarów na znaczne odległości.
- b) Umożliwia dostarczanie towarów od „drzwi do drzwi”.
- c) Duża zależność od warunków pogodowych.
- d) Wywiera nieznaczny wpływ na degradację środowiska.
- e) brak możliwości dostarczania towarów od „drzwi do drzwi”.
- f) Wyróżnia się wysokim poziomem bezpieczeństwa.

### **Zadanie 10.**

**Wymień trzy walory przyrodnicze wpływające na atrakcyjność turystyczną Francji.**

- .....
- .....
- .....

### **Zadanie 11.**

**Wymień rodzaje turystyki, uwzględniając cel podróży.**

- a) .....
- b) .....
- c) .....
- d) .....
- e) .....
- f) .....