

Test diagnostyczny z geografii

Informacja!

Test ten sprawdza wiedzę i umiejętności uczniów po zrealizowaniu podstawy programowej w roku szkolnym 2019/20.

Test diagnostyczny nie jest na ocenę, ale jest obowiązkowy dla wszystkich uczniów, dlatego proszę o samodzielne rozwiązywanie zadań.

Odpowiedzi proszę przesłać na adres e-mail **emilianlichman.geografia@interia.pl** najpóźniej do dnia **14.06.2020 (niedziela)**

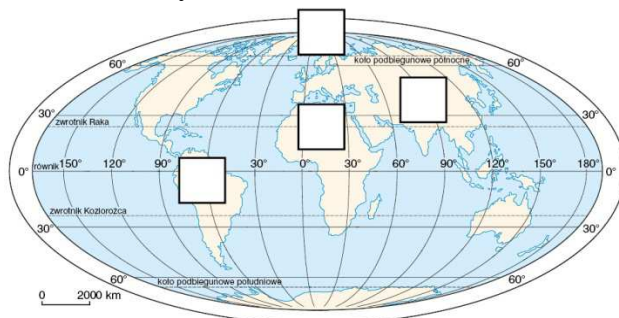
Zad. 1. Podkreśl nazwy trzech terytoriów będących enklawami. (0–1 p.)

Alaska, Grenlandia, Islandia, Lesotho, Monako, obwód kaliningradzki, Nepal, San Marino, Suazi, Watykan

Zad. 2. Wpisz w odpowiednie miejsca na mapie świata litery oznaczające poszczególne bariery osadnicze. (0–2 p.)

A – bariera termiczna

B – bariera wysokościowa



C – bariera wodna

D – bariera świetlna

Zad. 3. Uzupełnij poniższe definicje odpowiednimi terminami. (0–4 p.)

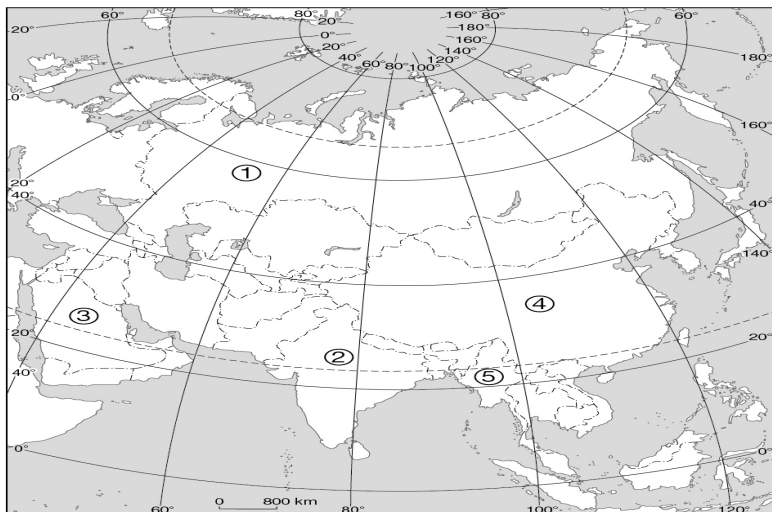
a) Proces szybkiego wzrostu liczby mieszkańców przedmieść i jednoczesnego spadku liczby mieszkańców centrów miast to

b) Zespół miast składający się z dużego, wyraźnie dominującego miasta centralnego i otaczającej go strefy podmiejskiej to

c) Procentowy udział mieszkańców miast w ogólnej liczbie ludności to

d) Procesy urbanizacyjne, w których wzrost odsetka ludności miejskiej nie jest związany z rozwojem społeczno - gospodarczym, lecz z brakiem miejsc pracy na wsi określane są jako

Zad. 4. Na mapie zaznaczono wybrane państwa różniące się dominującą religią. Przyporządkuj religiom, których nazwy zamieszczono w tabeli: (0-3p)



a) odpowiadający im opis wybrany z podanych poniżej,

b) numer, którym oznaczono na mapie państwo, gdzie dana religia dominuje,

c) nazwę państwa.

Opisy religii:

A. Wyznawcy tej religii nie uznają bogów. Ich celem jest osiągnięcie nirwany, czyli stanu oświecenia, całkowitego spokoju i braku cierpień.

B. Jest to najstarsza religia monoteistyczna (opierająca się na wierze w jednego Boga). Jej świętymi księgami są Tora i Talmud.

C. Wyznawcy tej religii zobowiązani są do publicznego wyznania wiary, modlitwy, postu, jałmużny i pielgrzymki do świętego miasta.

D. Religia monoteistyczna, której fundamentem jest wiara w jednego Boga w trzech Osobach oraz zbawienie i życie wieczne dzięki zmartwychwstaniu Jezusa Chrystusa.

Nazwy państw:

*Chiny, Iran, Rosja, Indonezja, Myanmar, Indie,
Arabia Saudyjska, Izrael*

Nazwa religii	Opis religii (litera)	Numer na mapie	Nazwa państwa
Islam			
Buddyzm			

Zad. 5. Wpisz obok zdania prawdziwego literę P, a obok fałszywego – literę F. (0–2p.)

- W Brazylii występuje połowa światowego pogłównia trzody chlewnej.....
- Naturalne pastwiska na obszarach górskich sprzyjają hodowli bydła mlecznego.....
- Chów bydła w Azji Południowej uwarunkowany jest względami religijnymi i kulturowymi.
- Głównymi producentami wełny na świecie są Australia i Nowa Zelandia.....

Zad. 6. Uzupełnij tabelę, wpisując we właściwe miejsca litery odpowiadające czynnikom lokalizacji zakładów przemysłowych oraz cyfry odpowiadające typom lokalizacji, wybierając spośród podanych poniżej. (0-5p)

Czynniki lokalizacji: *A. baza surowcowa, B. dostęp do wody, C. baza energetyczna, D. znaczne zasoby siły roboczej, E. zaplecze naukowo-badawcze, F. duży rynek zbytu*

Zakład przemysłowy	Czynnik lokalizacji
Kopalnia węgla brunatnego	
Piekarnia	
Huta miedzi w Legnicy	
Elektrownia wodna Porąbka-Żar	
Zakłady montażu sprzętu komputerowego w Chinach	

Zad. 7. Uzupełnij tabelę, wpisując obok nazwy obiektu nazwę miasta oraz państwa, w którym ten obiekt się znajduje. Wybierz nazwy spośród podanych niżej. (0–3 p.)

Miasta: *Paryż, Teby Zachodnie, Londyn, Petersburg* Państwa: *Francja, Egipt, Rosja,*

Obiekt	Miasto	Państwo
Ermitaż		
Dolina Królów		
Notre Dame		

Zad. 8. Podkreśl zdania dotyczące transportu kolejowego.

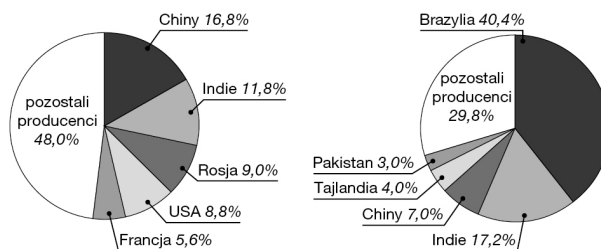
(0–2 p.)

- Ma duże znaczenie w przewozie towarów na krótkich i średnich odległościach.
- Jest wykorzystywany głównie do przewozu towarów masowych (np. węgla, rud metali, zbóż).
- Główne szlaki handlowe prowadzą z rejonu Zatoki Perskiej do Ameryki Północnej i Europy Zachodniej.
- Cechuje go niski poziom bezpieczeństwa.
- Daje możliwość dostarczania towarów od „drzwi do drzwi”.
- Jego sprawne funkcjonowanie jest możliwe m.in. dzięki wprowadzeniu układu elektromagnesów (np. w Japonii, we Francji, w Niemczech).

Zad. 9. Poniższe wykresy przedstawiają głównych producentów dwóch roślin uprawnych. Wpisz pod wykresami nazwy tych roślin wybrane spośród podanych.

(0–2 p.)

trzcina cukrowa, ryż, pszenica, kukurydza



a) b)

Zad. 10. Wymień trzy walory przyrodnicze wpływające na atrakcyjność turystyczną Francji. (0–3p.)

-
-
-

Zad. 11. Podkreśl nazwy państw charakteryzujących się rolnictwem wysokotowarowym. Następnie wyjaśnij, na czym polega ten rodzaj rolnictwa. (0–2 p.)

Stany Zjednoczone, Rosja, Niemcy, Belgia, Indie

Rolnictwo wysokotowarowe:.....

Zad. 12. Wpisz litery odpowiadające poniższym cechom państw o różnym poziomie rozwoju społeczno - gospodarczego w odpowiednie kolumny tabeli. (0-5p)

- A. Dobrze rozwinięta infrastruktura techniczna.
- B. Dominacja rolnictwa w strukturze zatrudnienia i tworzeniu PKB.
- C. Duży odsetek dzieci i młodzieży.
- D. Niewielkie zużycie energii na jednego mieszkańca.
- E. Niska śmiertelność niemowląt.
- F. Rozwinięty przemysł wysokiej technologii (high-tech).
- G. Rozwój infrastruktury technicznej nienadążający za rozwijającą się gospodarką.
- H. Wysoki poziom wykształcenia mieszkańców, bardzo niski poziom analfabetyzmu.
- I. Wzrost poziomu urbanizacji i rozrastanie się slumsów.
- J. Zahamowanie eksplozji demograficznej, malejący przyrost naturalny.

Cechy państw		
wysoko rozwiniętych gospodarczo	średnio rozwiniętych gospodarczo	słabo rozwiniętych gospodarczo

Zad. 13. Do każdej z wymienionych płaszczyzn globalizacji dopasuj odpowiedni przykład. (0-3p)

- a) technologiczna
 - b) społeczno-kulturowa
 - c) gospodarcza
- A. swobodny przepływ kapitału
 - B. rozwój przewozów kontenerowych

C. zawieranie koalicji międzynarodowych

D. swobodny przepływ osób

a) b) c)

Zad. 14. Każdemu z państw, których nazwy podano niżej, przyporządkuj właściwą nazwę organizacji międzynarodowej. (0–3 p.)

a) Kanada

b) Szwecja

c) Kuwejt

d) Ukraina

A. Wspólnota Niepodległych Państw

B. Unia Europejska

C. Wspólny Rynek Południa

D. Organizacja Paktu Północnoatlantyckiego

E. Liga Państw Arabskich

a) b) c) d)

Zad. 15. Wpisz obok zdania prawdziwego literę P, a obok fałszywego – literę F. (0–3 p.)

a) ONZ to największa organizacja międzynarodowa na świecie.

b) Jednym z 51 państw założycielskich ONZ była Polska.

c) Główna siedziba ONZ znajduje się w San Francisco.

d) Najważniejsze instytucje ONZ to UNESCO i Bank Światowy.

e) Decyzję o utworzeniu ONZ podjęto w 1945 roku w San Francisco.

f) Jedną z organizacji działających w ramach ONZ jest Unia Europejska.

